



امتحان شهادة الدراسة الثانوية العامة لعام ٢٠٢٦

(وثيقة محمية/محمود)

د : س

مدة الامتحان: ٣٠ : ١

رقم النموذج: (١)

المبحث: الجغرافيا

رقم المبحث: 117

اليوم والتاريخ: الاثنين ٢٩/٦/٢٠٢٦
رقم الجلوس:

اسم الطالب:

اختر رمز الإجابة الصحيحة في كل فقرة مما يأتي، ثم ظلل بشكل غامق الدائرة التي تشير إلى رمز الإجابة في نموذج الإجابة (ورقة القارئ الضوئي) فهو النموذج المعتمد (فقط) لاحتساب علامتك، علماً أن عدد الفقرات (٥٠)، وعدد الصفحات (٥).

١- يُشير الرمز (س) على الخريطة المُجاورة إلى سلاسل جبلية

تشكّلت بفعل الالتواءات، هي:

- (أ) الألب
(ب) الهيمالايا
(ج) الأنديز
(د) الروكي



٢- يُعرّف النطاق الزلزالي الذي يبدأ من سواحل المحيط الأطلسي، مروراً بشمال الهند وصولاً إلى جُزر الهند الشرقية بـ:

- (أ) الحلقة النارية
(ب) الحزام الألبّي
(ج) سان أندرياس
(د) تشيلي العظيم

٣- مجموعة الأشكال الطبيعية التي تتكوّن نتيجة إذابة الصخور الكلسية خلال عملية الكَرْبنة، هي:

- (أ) جلاميد التَّكوّير
(ب) قباب النقشُر
(ج) مُنحدرات الهشيم
(د) طبوغرافية الكارست

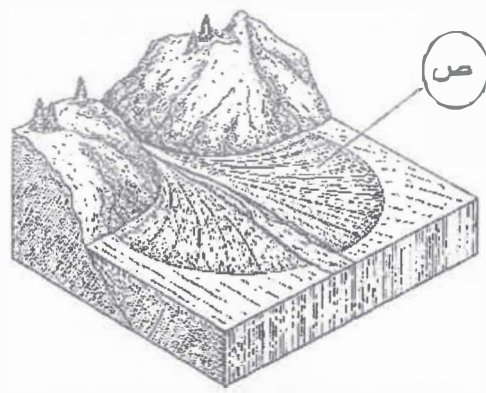
٤- تزداد قُدرة النهر على عملية الحَتّ والنقل كلّما:

- (أ) زادت صلابة الصخر في المجرى
(ب) قلّت درجة الانحدار
(ج) قلّ عرض النهر
(د) زادت كمية التّصريف للنهر

٥- يوضّح الشكل المُجاور أحد الأشكال الأرضية الناتجة عن الإرساب النهري

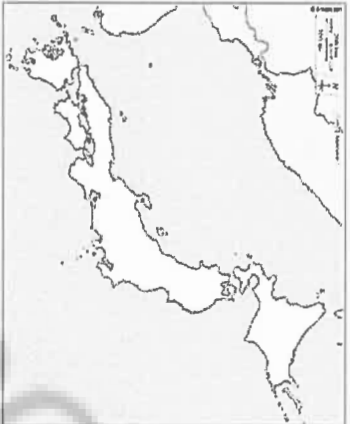
حيث يُشير الرمز (ص) في الشكل إلى:

- (أ) المروحة الفيضيّة
(ب) السّهل الفيضيّ
(ج) المجرى الرئيس
(د) رأس المروحة



الصفحة الثانية/ نموذج (1)

- ٦- يُعزى عدم تكوين دلتا لنهر الأمازون على الرغم من أن لديه أكبر حوض تصريف نهري في العالم إلى:
- أ) وجود غطاء نباتي كثيف في المجرى
ب) وجود الصخور اللينة في المجرى
ج) قوة الأمواج القادمة من المحيط الأطلسي
د) تزايد درجة انحدار منطقة المصب
- ٧- تُعرف المناطق المغطاة بالحصى والتي تشكلت بفعل تآرية الرياح ذرات الرمال الناعمة تاركة وراءها الحصى والرمل ذات الأحجام الكبيرة والمتوسطة التي لا تستطيع الرياح تحريكها ب:
- أ) أراضي الحماد
ب) أراضي الرق
ج) الفرشات الرملية
د) المروق الرملية
- ٨- من الأشكال الأرضية الناتجة عن الإرساب التخري:
- أ) الأقواس التخريية
ب) الحواجز التخريية
ج) المسلات البحرية
د) الكهوف الساحلية
- ٩- المؤسس الفعلي لعلم الجغرافيا السياسية والذي نُشر كتابًا بعنوان "الجغرافيا السياسية"، هو:
- أ) أرسطو
ب) رودلف كلبين
ج) ابن خلدون
د) فريدريك رتزل
- ١٠- الدولة المحتواة من الدول الآتية، هي:
- أ) النمسا
ب) سان مارينو
ج) بوليفيا
د) أثيوبيا



ب) المُستطيل
د) غير المُنتظم

أ) المُنتظم
ج) المُجرأ

١١- يُمثل الشكل المجاور خريطة الديان التي يتخذ شكلها الجغرافي الشكل:

- ١٢- تُشكل الإدارة الفعالة أحد العوامل الحاسمة في استقرار الدولة وقوتها؛ إذ تعتمد كفاءتها على:
- أ) توافر الموارد الطبيعية
ب) الاستقرار السياسي والنظام الدبلوماسي
ج) تعبئة الموارد العسكرية
د) توزيع المُسكن المتوازن
- ١٣- لا تملك صفة قانونية
- أ) لا تملك صفة قانونية
ب) غير ثابتة وقابلة للتغير
ج) حديثة ظهرت بعد وضع الحدود
د) حديثة ظهرت بعد وضع الحدود
- ١٤- الحلف الذي كان الهدف الأساسي له عند تأسيسه "الدفاع عن أوروبا الغربية (خلال الحرب الباردة)"، هو:
- أ) حركة عدم الانحياز
ب) وارسو
ج) الناتو
د) مجموعة الثمانية

١٥- يختص الأمن السبراني ب:

- أ) حماية البيئة التحتية الرقمية
ب) إدارة الأزمات والكوارث بكفاءة عالية
ج) الحد من الفكر المتطرف والأعمال الإرهابية
د) صَبط المتورطين في قضايا المخدرات
- ١٦- يستند الأمن الوطني الأردني إلى المراكز الآتية جميعها، ما عدا:
- أ) السياسة الأردنية
ب) المسار الديمقراطي والمشاركة السياسية
ج) القوات المسلحة الأردنية والأجهزة الأمنية
د) التسميات الإدارية

الصفحة الثالثة/ نموذج (١)

١٧- من أسباب أخطاء الشمول عند إجراء التعداد السكاني:

(أ) عدم فهم السكان الأسئلة فهمًا صحيحًا (ب) تقديم السكان معلومات غير دقيقة

(ج) نسيان بعض الأحياء والمناطق النائية (د) أخطاء من فريق التعداد في أثناء تسجيل البيانات

١٨- دولة ضخمة يزيد عدد السكان فيها على مليار وأربعمئة مليون نسمة؛ أي ما يُعادل 18% من سكان العالم، هي:

(أ) كندا (ب) ألمانيا (ج) روسيا (د) الصين

١٩- يقطن حوالي 18.5% من سكان الأردن في:

(أ) عمان (ب) إربد (ج) الزرقاء (د) الكرك

٢٠- إذا علمت أن عدد المواليد في دولة ما (160,000) نسمة، وعدد الوفيات (30,000) وفاة، وكان عدد سكان

الدولة في منتصف السنة (10) مليون نسمة، فإن معدل الزيادة الطبيعية يساوي:

(أ) 1.3% (ب) 2.3% (ج) 3.3% (د) 4.3%

٢١- الدولة التي تُعدّ من أكثر دول العالم من حيث التعقيد اللغوي، هي:

(أ) السويد (ب) النرويج (ج) سويسرا (د) الهند

٢٢- وفقًا لنظرية الانتقال الديمغرافي، المرحلة التي تصل فيها المجتمعات إلى الاستقرار، إذ تصبح معدلات المواليد

والوفيات منخفضة جدًا ويكون معدل النمو السكاني شبه ثابت أو يتوقف تمامًا، هي المرحلة:

(أ) الرابعة (ب) الثالثة (ج) الثانية (د) الأولى

٢٣- تهدف نظرية الحجم الأمثل للسكان التي وضعها العالم إدورد هاريسون، إلى:

(أ) تفسير كيفية انتقال المجتمعات من عصر ما قبل الحداثة إلى مجتمعات ما بعد الحداثة

(ب) فهم التحولات الاجتماعية الاقتصادية التي تمرّ فيها مختلف البلدان

(ج) تفسير تنامي ظاهرة الفقر ومشكلاته بتزايد أعداد السكان

(د) الموازنة بين عدد السكان والموارد بما يسهم في تعزيز رفاهية المجتمع

٢٤- يُعرف نمّع الزوجين بصحة جيدة ثمكّنهما من الإنجاب بصورة طبيعية، إلى جانب تمتّعهما بالحقّ في اتخاذ قرارات

تتعلّق بالحمل والولادة مع ضمان الرعاية الصحيّة الملائمة بـ:

(أ) تنظيم الأسرة (ب) تحديد النسل (ج) الصّحة الإنجابية (د) رعاية الأمومة

٢٥- من أسباب مشكلة البطالة في الأردن:

(أ) عدم توافق مخرجات التعليم مع سوق العمل (ب) نقص العمالة الوافدة

(ج) انخفاض معدلات النمو السكاني (د) مشاركة المرأة في سوق العمل

٢٦- تُعدّ طبقة التروبوسفير من أهمّ طبقات الغلاف الجوّي عند دراسة المناخ؛ ومن خصائصها:

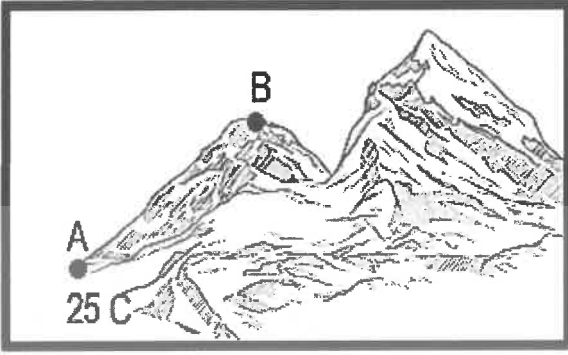
(أ) تتخفض فيها درجة الحرارة بالارتفاع للأعلى (ب) تحترق فيها معظم الشهب والنيازك

(ج) أقلّ الطبقات سمكًا (د) تتشكّل فيها ظاهرة الشفق القطبي

٢٧- الشهر الذي تكون فيه الشمس في أبعد نقطة عن الأرض (الأوج)، هو شهر:

(أ) حزيران (ب) تموز (ج) آب (د) أيلول

الصفحة الرابعة/ نموذج (١)



٢٨- إذا عَلِمَت أنّ درجة الحرارة في المنطقة (A) الواقعة على مستوى سطح البحر كانت 25 سيلسيوس، فإنّ درجة الحرارة المُتوقَّعة عند النقطة (B) الواقعة على ارتفاع 2000 متر عن مستوى سطح البحر ستكون:

- (أ) 38°C (ب) 31.5°C
(ج) 13°C (د) 12°C

٢٩- يتأثر الضَّغط الجوّي بعدّة عوامل طبيعية تُؤدِّي إلى تغيُّر قيمته من مكان لآخر حيث ترتفع قيم الضَّغط الجوّي كُلّما:

- (أ) ارتفع المكان عن سطح البَحر (ب) ارتفعت درجة الحرارة
(ج) انخفضت كثافة الهواء (د) قلَّت نسبة رطوبة الهواء

٣٠- تتحرك الأجسام المُتحركَة (ومنها المياه والرياح) إلى يمين اتجاهها في نصف الكُرة الأرضية الشمالي وإلى يسار اتجاهها في نصف الكُرة الأرضية الجنوبي بفعل:

- (أ) قوّة الاحتكاك (ب) ميلان محور الأرض (ج) القوّة الكارولية (د) انحدار الضَّغط الجوّي

٣١- عند النقاء كُتلة هوائية دافئة رطبة مع كُتلة هوائية باردة جافّة، يرتفع الهواء الدافئ فوق البارد، وعند وصوله إلى درجة نُقطة الندى يتكاثف بخار الماء مُكوِّناً:

- (أ) الضباب الإشعاعي (ب) ضباب الجبهات (ج) الضباب المُتقلِّب (د) الضباب الدُخاني

٣٢- الإقليم المناخي الفرعي الذي يمتدّ بين درجتي عرض 45-60 شمال خطّ الاستواء، هو إقليم:

- (أ) غُرب القارّات (ب) التندرا (ج) البحر المُتوسِّط (د) الصحاري الحارّة

٣٣- الغاز الذي يُعدّ الأكثر تأثيراً من حيث الكميّة في تسارع وتيرة التغيُّر المُناخي، هو غاز:

- (أ) أكسيد النيتروز (ب) ثاني أكسيد الكبريت (ج) ثاني أكسيد الكربون (د) أول أكسيد الكربون

٣٤- تعتمد تجارة الكربون التي أقرّها بروتوكول كيوتو لتقليل انبعاثات الكربون على مبدأ:

- (أ) المُساءلة البيئية (ب) المُلوّث يُدفع (ج) المُسؤولية البيئية (د) لا للكربون

٣٥- تتسم البيئة بمجموعة من الخصائص التي تُعكس طبيعتها الديناميكية وتفاعُل عناصرها ومن هذه الخصائص:

- (أ) ثبات مُكوّناتها واستقرارها (ب) التّشابه بين مُكوّناتها
(ج) تنوّعها الحيوي (د) القُصور في التّكيف

٣٦- المدينة التي تُعدّ أكثر مُدن العالم تلوثاً، هي مدينة:

- (أ) بكين - الصين (ب) طوكيو - اليابان (ج) موسكو - روسيا (د) نيودلهي - الهند

٣٧- من الانتقادات التي وُجّهت إلى النظرية التوافقية البيئية أنّها:

- (أ) افتقرت إلى الدقّة العلميّة والمعايير الكميّة الواضحة (ب) بالغت في تقدير سيطرة الإنسان على البيئة
(ج) تجاهلت قدرة الإنسان على التّأقلم مع بيئته (د) اتّسمت بالطابع التجريبي التّحليلي

٣٨- من الدُول التي تُعدّ أكبر مراكز تجمُّع النفايات الإلكترونيّة في العالم:

- (أ) أندونيسيا (ب) جنوب أفريقيا (ج) إثيوبيا (د) غانا

الصفحة الخامسة/ نموذج (١)

٣٩- يتسبب الاستخدام المفرط لمركبات الكلوروفلوروكربون في:

(أ) حرائق الغابات (ب) الأمطار الحمضية (ج) استنزاف غاز الأوزون (د) الضباب الدخاني

٤٠- جميع ما يأتي من أنواع الخدمات البيئية وفق تقرير التقييم البيئي للألفية، ما عدا:

(أ) الخدمات التنظيمية (ب) خدمات الإمداد (ج) الخدمات التسويقية (د) خدمات الدعم

٤١- تُعرّف عملية التطور الاقتصادي والاجتماعي التي تهدف إلى تلبية احتياجات الحاضر دون المساس بقدرة الأجيال المقبلة على ذلك بالتنمية:

(أ) الاقتصادية (ب) المستدامة (ج) الاجتماعية (د) الثقافية

٤٢- المحمية الطبيعية التي تتسم بوجود أكبر تنوع حيوي ضمن المحميات المنشأة في الأردن، هي محمية:

(أ) اليرموك (ب) ضانا (ج) دبين (د) الموجب

٤٣- تُعرّف المواقف العمليّة التي يمرّ بها الفرد خلال حياته المهنية أو الشخصية وتؤثر في طريقة تفكيره وتعامله مع المواقف المستقبلية بـ:

(أ) الكفاءات (ب) التجارب (ج) الخبرات (د) المؤهلات

٤٤- تُعرّف الزراعة التي تُمارس داخل المباني أو البيوت الزجاجية متعددة الطوابق لزراعة المحاصيل باستخدام أنظمة إضاءة وريّ ذكيّة؛ لتوفير إنتاج مستمرّ بالزراعة:

(أ) المائية (ب) التجارية (ج) الرأسية (د) المختلطة

٤٥- الثورة الصناعية التي وصفها المنتدى الاقتصادي العالمي بأنها " ثورة تدمج بين المجالات المادية والرقمية والحيوية" هي الثورة الصناعية:

(أ) الرابعة (ب) الثالثة (ج) الثانية (د) الأولى

٤٦- التقنية التي تُعزّز الشفافية وتتبع المنتجات من المصدر إلى المستهلك في قطاع الصناعة، هي:

(أ) الذكاء الاصطناعي وتحليل البيانات (ب) الواقع الافتراضي والمُعزّز

(ج) سلاسل التوريد الذكيّة (د) الروبوتات الذكيّة

٤٧- المبدأ الاقتصادي الذي يُعدّ أحد أسباب قيام التجارة الدولية هو:

(أ) المنفعة المطلقة (ب) التوازن التجاري (ج) الندرة (د) الفرصة البديلة

٤٨- من أشهر المواقع السياحية في إقليم آسيا والمحيط الهادي:

(أ) شلالات نياجارا (ب) تاج محلّ (ج) برج إيفل (د) نهر الأمازون

٤٩- يُعرّف الارتفاع المُستمرّ في المستوى العامّ لأسعار البِلَع والخدمات خلال مدّة زمنية مُعيّنة؛ ما يُؤدّي إلى انخفاض القوة الشرائية، بـ:

(أ) الاستقرار (ب) الانكماش (ج) الكساد (د) التضخّم

٥٠- من عناصر ريادة الأعمال، ويعني اكتشاف فجوة أو حاجة في السوق واستغلالها بذكاء ومرونة:

(أ) الفرصة (ب) الابتكار (ج) المخاطرة (د) التّظيم والإدارة

﴿ انتهت الأسئلة ﴾

٢

⌘

١

المنهاج القديم



F و → ن

إدارة الامتحانات والاختبارات
قسم الامتحانات العامة

امتحان شهادة الدراسة الثانوية العامة لعام ٢٠٢٦

(وثيقة محمية/محدود)

د : س

مدة الامتحان: ٣٠ : ١

رقم المبحث: 118

المبحث: الجغرافيا

اليوم والتاريخ: الاثنين ٢٩/٦/٢٠٢٦
رقم الجلوس:الفرع: الأدبي + الفندقية والسياحي (جامعات)
اسم الطالب:
رقم النموذج: (١)

اختر رمز الإجابة الصحيحة في كل فقرة مما يأتي، ثم ظلل بشكل غامق الدائرة التي تشير إلى رمز الإجابة في نموذج الإجابة (ورقة القارئ الضوئي) فهو النموذج المعتمد (فقط) لاحتساب علامتك، علماً أن عدد الفقرات (٥٠)، وعدد الصفحات (٦).

١- يُعرّف المناخ بأنه العِلْم الذي يدرس:

(أ) الظواهر الجوّية لفترة زمنية طويلة بحسب موقع المكان على درجات العرض

(ب) حالة الجوّ خلال فترة زمنية قصيرة تبدأ بساعات وتنتهي في مُدّة أقصاها أسبوعان

(ج) الفرق بين درجة الحرارة العظمى ودرجة الحرارة الصغرى خلال اليوم الواحد

(د) الفرق بين أعلى وأدنى مُعدّل درجة حرارة لشهور السّنة في منطقة ما

٢- تُعادل درجة الحرارة (50) فهرنهايت في النظام المئوي:

(أ) 59 م (ب) 45 م (ج) 32 م (د) 10 م

٣- للضغط الجوّي أهمية كبيرة في الأرصاد الجوّية فارتفاع قيم الضّغط الجوّي في مكان ما دليل على:

(أ) إضافة هواء من الأعلى

(ب) ارتباطه بدرجات الحرارة المرتفعة

(ج) إعطاء مؤشّر لتوزّع الرياح إلى الأعلى

(د) تَوَرُّع الهواء في المنطقة أو يفقد منها


٤- يُستخدَم الجهاز الظاهر في الشكل المُجاور لقياس:

(أ) سرعة الرياح

(ب) اتجاه الرياح

(ج) قوّة الرياح

(د) ضغَطّ الرياح



٥- تتكوّن غيوم المُزن الرُّكاميّة ذات الأمطار الغزيرة التي تَحْدث في العروض الوُسطى نتيجة:

(أ) اصطدام الرياح المُحمّلة ببخار الماء بحواجز تضاريسية كالجبال

(ب) التّسخين الشديد للسطح وارتفاع الهواء المُحمّل ببخار الماء إلى طبقات الجوّ العُليا

(ج) التّقاء كُتلتين هوائيتين غير مُتجانستين؛ إحداها باردة والأخرى دافئة

(د) اختلاف الحرارة التّوعية لكلّ من الياابس والماء مصحوبة بتيارات هواء صاعدة

٦- يُؤثّر شكل امتداد الجبال في اتجاه هبوب الرياح، فجبال الهملايا التي تمتدّ من الشرق إلى الغرب تحمي الهند من

وصول الرياح:

(أ) المَوسمية (ب) القطبية (ج) العُربية (د) التّجارية

يتبع الصفحة الثانية

الصفحة الثانية/ نموذج (١)

٧- تكثر السحب في الأقاليم الاستوائية بسبب:

- (أ) قلة بخار الماء في الجو
(ب) تيارات الهواء الصاعدة
(ج) الانخفاض الشديد في درجات الحرارة
(د) سُكون الهواء وضعف حركته

٨- يتكوّن البَرَد بسبب التيارات الهوائية الصاعدة على شكل:

- (أ) بلورات جليدية سداسية الشكل
(ب) قُشور بلورية رقيقة
(ج) أهداب الرّيش الأبيض
(د) كُرات مُستديرة من الماء المتجمّد

٩- يتبلّغ ارتفاع خطّ الثلج الدائم في المنطقة الاستوائية:

- (أ) صفراً
(ب) 1500 م
(ج) 3500 م
(د) 5000 م

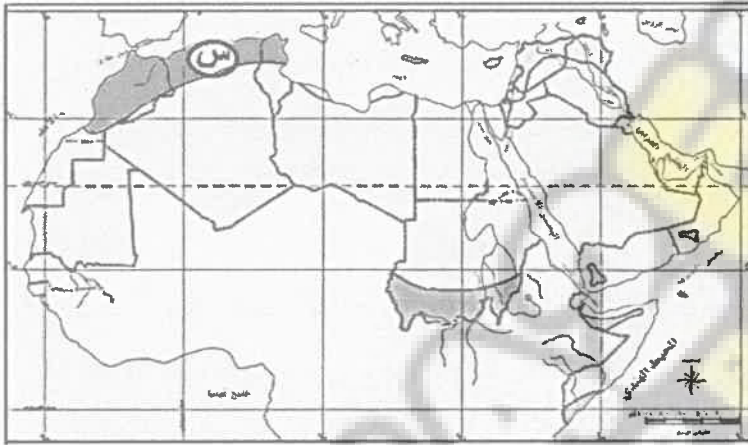
١٠- يُظهر إعصار "التورنادو" في المناطق المعتدلة داخل نطاق بعض المنخفضات الجوية التي تُعبر أراضي أمريكا الشمالية في فصلي:

- (أ) الصيف والخريف
(ب) الشتاء والربيع
(ج) الربيع والصيف
(د) الصيف والشتاء

١١- الإقليم المناخي المشار إليه بالرمز (س)

في الخريطة المُجاورة، هو:

- (أ) المداري الموسمي
(ب) المداري القاري
(ج) الاستوائي
(د) البحر المُتوسّط



١٢- نوع الرياح التي تسود في إقليم المرتفعات الجبلية الأردنية:

- (أ) التجارية
(ب) الغربية
(ج) الموسمية
(د) الشمالية

١٣- يتفاوت توزيع الأمطار داخل الأردن من إقليم إلى آخر، إذ يبلغ المعدّل السنوي لكميات الأمطار في وادي الأردن:

- (أ) (60) ملم
(ب) (141) ملم
(ج) (342) ملم
(د) (422) ملم

١٤- تتخفّض كثافة السُكان عالمياً في المناطق:

- (أ) المعتدلة والباردة
(ب) المعتدلة والحارة
(ج) الحارة والباردة
(د) الباردة والقُطبية

١٥- يُسمّى الوَسَط الذي تعيش فيه الكائنات الحيّة والعناصر غير الحيّة جميعها بما فيه من تفاعل يحدث بينهما ضمن مكان مُحدّد:

- (أ) النظام البيئي
(ب) البيئة
(ج) التوازن البيئي
(د) الإخلال البيئي

١٦- يُعدّ استغلال النُقط والمعادن في المناطق الصحراوية الجافة من الأمثلة التي يُقدمها أصحاب النُظرية:

- (أ) الإمكانية
(ب) الحتمية
(ج) التوافقية
(د) الاحتمالية

١٧- من العوامل البشريّة التي تُعدّ من أسباب التغيّر المناخي:

- (أ) التجارب النووية
(ب) التغيّر في كمية الإشعاع الشمسي

- (ج) الانفجارات البركانية
(د) التغيّر في مكونات الغلاف الجوي

الصفحة الثالثة/ نموذج (١)

١٨- تُشكّل نسبة مساحة الغابات التي تعرّضت للقطع من مجمل مساحة اليابسة:

(أ) 30% (ب) 50% (ج) 70% (د) 80%

١٩- يُعدّ اختفاء كثير من الجُزر والمُدن السّاحلية بسبب ارتفاع مستوى سطح البحر من آثار التّغير المُناخي:

(أ) الاقتصادية (ب) الصّحيّة (ج) تدهور التّنوع الحيوي (د) تدهور الموارد المائية

٢٠- القُدرة أو الطّاقة الفُصوى لإمكانات البيئة على تحمّل النّشاط البشري دون استنزاف تعريف لـ:

(أ) التنمية المُستدامة (ب) الاقتصاد الأخضر (ج) الحُمولة البيئية (د) التخطيط البيئي

٢١- من أكثر مفاهيم التنمية المُستدامة نموًا وانتشارًا في العالم:

(أ) السياحة البيئية (ب) الاقتصاد البيئي (ج) التنمية المتوازنة (د) التخطيط البيئي

٢٢- من أكبر المَحَمّيات الطبيعيّة مساحة في الأردن، مَحَمّية:

(أ) وادي رمّ (ب) الشومري (ج) الموجب (د) ضانا

٢٣- الطّاقة المُتولّدة عن طريق انشطار عُنصر اليورانيوم لاستخدامها في إدارة المُولّدات الكهربائيّة والمُحرّكات والمصانع، هي:

(أ) الكهرومائيّة (ب) الشّمسية (ج) الحراريّة (د) النّووية

٢٤- اتّجهت العديد من دول العالم إلى استخدام طاقة الرياح بوصفها أحد مصادر الطّاقة:

(أ) المُتجدّدة والأقلّ كلفة والتي لا تُؤثّر سلبيًا في البيئة (ب) غير المُتجدّدة والتي لا تشتمل على عملية احتراق

(ج) المُتجدّدة الأكثر حطّراً على البيئة (د) غير المُتجدّدة ومصدر مجاني للطّاقة

٢٥- أقام الأردن أكبر مشروع للطّاقة الشّمسية في محافظة:

(أ) إربد (ب) معان (ج) عمّان (د) الطفيلة

٢٦- من الأمثلة على الجُزر البركانيّة في المُحيط الأطلسي:

(أ) تيران (ب) كناري (ج) طُنْب الكُبرى (د) سوقطرة

٢٧- تقوم العوامل الداخليّة والعوامل الخارجيّة بتشكيل معالم سطح الأرض بشكل:

(أ) أفقي (ب) رأسي (ج) باطني (د) تكاملي

٢٨- تُعرّف الخرائط الطبوغرافية بأنّها:

(أ) خطوط تصل بين المناطق المُتساوية في الارتفاع عن مستوى ثابت وهو مستوى سطح البحر

(ب) الخرائط التي تظهر عليها ظواهر سطح الأرض الطبيعيّة والبشريّة ويتم رَسمها بمقياس رَسم كبير

(ج) الفرق بين خطّي كنتور رئيسيين مُتتابعين ÷ عدد خطوط الكنتور بينهما + ١

(د) العِلْم الذي يدرس أشكال سطح الأرض ومظهره العامّ كقياس درجات انحداره ومساحته

٢٩- إذا كان الفرق بين خطّي كنتور رئيسيين مُتتابعين (200)، وعدد خطوط الكنتور بينهما 3 خطوط، فإنّ مقدار

الفاصل الرأسي، هو:

(أ) 50 (ب) 100 (ج) 150 (د) 200

٣٠- كلّ ما يأتي من مصادر الدراسة الجيومورفولوجية، ما عدا:

(أ) الدّراسات الميدانيّة (ب) تقنية الاستشعار عن بُعد

(ج) الخرائط (د) التّنبؤ بالتّغيرات التي ستطرأ مُستقبلاً

الصفحة الرابعة/ نموذج (١)

٣١- توسيع الشقوق الموجودة في الصخور وإحداث شقوق جديدة فيها بفعل نمو جذور النباتات من العوامل التي تساعد على حدوث التَّجوية:

(أ) الحيويّة (ب) البشريّة (ج) الكيميائيّة (د) الميكانيكيّة

٣٢- من أهم عناصر المناخ المؤثرة في نشاط التَّجوية في المناطق الجافة والمناطق الرطبة:

(أ) الأمطار والرياح (ب) الحرارة والأمطار (ج) الضَّغط الجوّي والرياح (د) الأمطار والضَّغط الجوّي

٣٣- بالاعتماد على الشَّكل المُجاور والذي يُمثِّل العلاقة بين التَّجوية الميكانيكيّة ودرجة الحرارة والأمطار يبلغ مستوى التَّجوية الميكانيكيّة عند درجة (صفر)

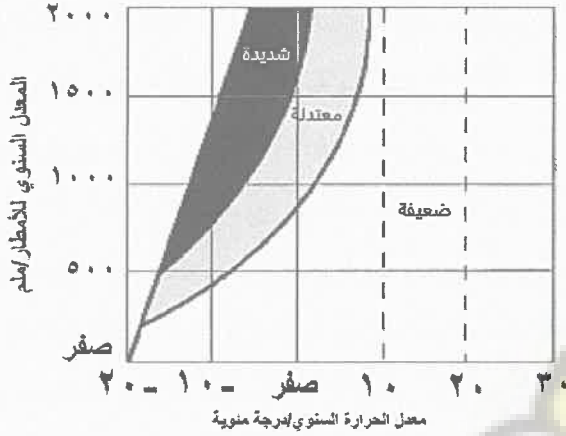
ومُعَدَّل الأمطار السنوي (500):

(أ) ضعيفة

(ب) مُعتدلة

(ج) شديدة

(د) شديدة جدًا



٣٤- الشَّكل الأرضي الذي ينشأ بفعل التَّجوية عن طريق التَّقْتُّ أو الإذابة وينتشر فوق السطوح الصَّخريّة المكشوفة قليلة الانحدار:

(أ) الخطام الصَّخري (ب) التربة (ج) حُفَر التَّجوية (د) قِباب التَّقَشُّر

٣٥- تتفاوت عملية حت الصخور حسب صلابتها، فهي نشطة في الصُّخور:

(أ) المتحوِّلة (ب) الجيرية (ج) البازلتية (د) النَّارية

٣٦- الكُثبان الرَّمليّة التي تنتشر في جنوبي الأردن هي الكُثبان:

(أ) الهلاليّة (ب) الطوليّة (ج) النجميّة (د) السيف

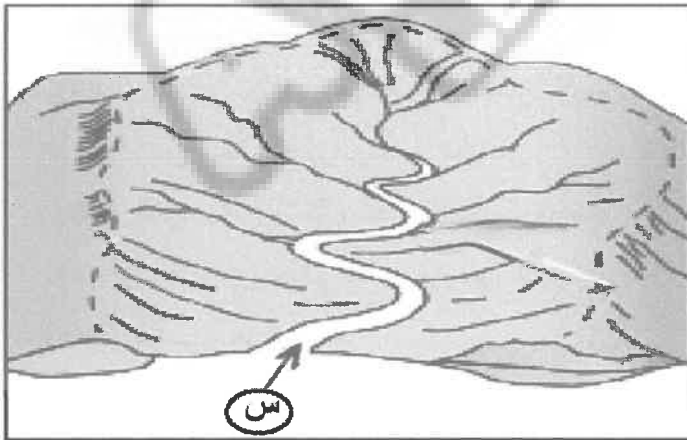
٣٧- بالاعتماد على الشَّكل المُجاور الذي يُمثِّل عناصر الحوض النَّهري، يُشير الرَّمز (س) إلى:

(أ) مَجري النَّهر

(ب) المَصَب

(ج) الرِّافد

(د) مَنبَع النَّهر



الصفحة الخامسة/ نموذج (١)

٣٨- العملية النهرية التي يتم فيها نقل الحبيبات الدقيقة والتي تُشكّل القسم الأكبر من حمولة النهر، هي:

(أ) الإذابة (ب) الجَرّ أو السَّحب (ج) التَّعلُّق (د) التَّرسيب

٣٩- تكوّنت شلالات فكتوريا نتيجة انكسار مفاجئ يعترض مجرى نهر:

(أ) سان لورنس (ب) المسيسيبي (ج) التير (د) الزمبيزي

٤٠- العالم الذي شبّه الدولة بكائن حيّ يمرّ بمراحل الميلاد والنموّ والوفاة، هو:

(أ) أرسطو (ب) ابن خلدون (ج) فردريك راتزل (د) رودلف كيلين

٤١- من الأمثلة على الأحلاف العسكرية:

(أ) حلف الناتو (ب) الاتحاد الأوروبي (ج) السوق الأوروبية المشتركة (د) منظمّة التجارة العالمية (الجات)

٤٢- تُمثّل التُخوم طابعًا مميزًا للفضل بين حدود الدُول أو الامبراطوريات، أيّ ممّا يأتي يُمكن أنّ يُشكّل منطقة تُخوم:

(أ) الموانئ والمُدُن الساحلية (ب) الصحاري والمُرتفعات الجبلية

(ج) المناطق الزراعية والصناعية (د) المياه الإقليمية والأنهار الدولية

٤٣- ظهرت المُنازعات الحدودية حول استثمار معدن الحديد في منطقتي الألزاس واللورين بين:

(أ) ألمانيا وبريطانيا (ب) ألمانيا وإيطاليا (ج) فرنسا وألمانيا (د) فرنسا وبريطانيا

٤٤- يُعدّ نهر "ريوجراند" من أكثر الأمثلة تعبيرًا عن المُشكلات الحدودية النهرية بين كلّ من:

(أ) الولايات المتحدة الأمريكية وكندا (ب) المكسيك وكندا

(ج) المكسيك وغواتيمالا (د) الولايات المتحدة الأمريكية والمكسيك

٤٥- يُشير الرمز (س) على الخريطة المُجاورة إلى نهر نُولي نشأت حوله اختلافات بين الدُول المُتجاورة على أحقيّة بناء

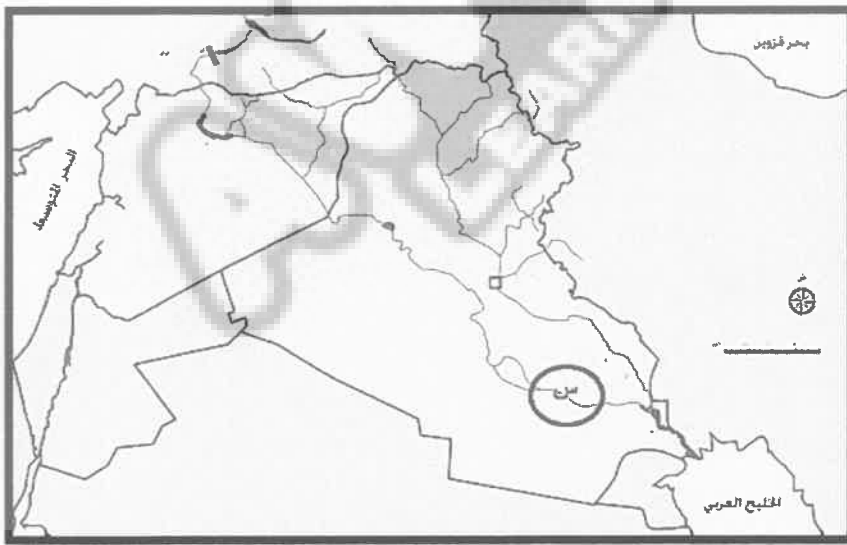
السُدود والاستفادة منها، هو نهر:

(أ) الأردن

(ب) النيل

(ج) دجلة

(د) الفرات



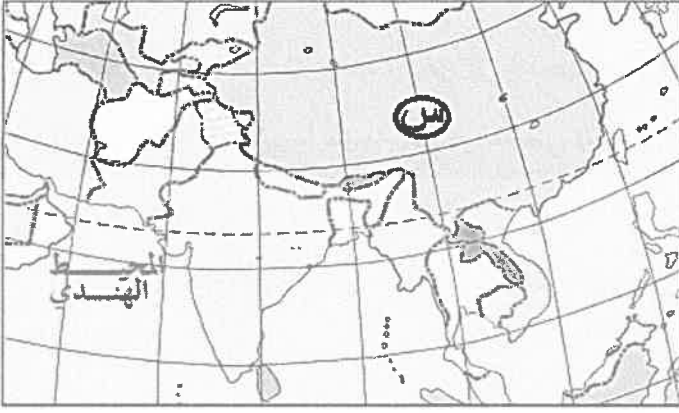
٤٦- من الأمثلة على الحدود التي رُسمت على أساس ديني، الحدود بين:

(أ) فرنسا وإسبانيا (ب) تشيلي والأرجنتين (ج) الهند والباكستان (د) فرنسا وألمانيا

يتبع الصفحة السادسة

الصفحة السادسة/ نموذج (١)

٤٧- يُشير الرمز (س) في الخريطة المُجاورة إلى دولة:



(أ) الهند

(ب) روسيا

(ج) الصين

(د) إيران

٤٨- تُعدّ الصحراء الغربية أرضًا مُتنازعًا عليها بين جبهة البوليساريو ودولة:

(أ) تونس

(ب) الجزائر

(ج) المغرب

(د) موريتانيا

٤٩- حَظُّ "مكماهون" هو حَظُّ مُتَّفَقٍ عليه منذُ عام ١٩١٤م كحدودٍ بين:

(أ) الصين وتايلند

(ب) روسيا والصين

(ج) الصين والتبت

(د) الهند والتبت

٥٠- تُعرَف الأَقَلِّيَّة القَوْمِيَّة بِأَنَّها مجموعة من الأفراد:

(أ) تنتمي إلى هُوية واحدة من حيث العِرق واللُّغة والعادات والتقاليد

(ب) تتبَّع ديانة مُختلفة عن ديانة أكثرية أفراد المُجتمع الموجودة فيه

(ج) لها لُغتها الخاصَّة وتختلف عن لُغة أفراد المُجتمع الموجودة فيه

(د) تنتمي إلى سُلالة تختلف عن سُلالة أفراد المُجتمع الذي تعيش فيه

﴿ انتهت الأسئلة ﴾



امتحان شهادة الدراسة الثانوية العامة لعام ٢٠٢٦

(وثيقة محمية/محدود)

د : س

مدة الامتحان: ٣٠ : ١

اليوم والتاريخ: الاثنين ٢٠٢٦/٦/٢٩
رقم الجلوس:

المبحث: التفسير وعلوم القرآن والحديث النبوي الشريف والسيرة النبوية

رقم المبحث: 301

رقم النموذج: (١)

الفرع: الشرعي

اسم الطالب:

اختر رمز الإجابة الصحيحة في كل فقرة مما يأتي، ثم ظلل بشكل غامق الدائرة التي تشير إلى رمز الإجابة في نموذج الإجابة (ورقة القارئ الضوئي) فهو النموذج المعتمد (فقط) لاحتساب علامتك، علماً أن عدد الفقرات (٥٠)، وعدد الصفحات (٥).

١- الصحابيَّة التي نزل فيها قول الله تعالى: ﴿قَدْ سَمِعَ اللَّهُ قَوْلَ الَّتِي تُجَدِّدُكَ فِي زَوْجِهَا وَتَشْتَكِ إِلَى اللَّهِ وَاللَّهُ يَسْمَعُ تَحَاوُرَكُمَا إِنَّ اللَّهَ سَمِيعٌ بَصِيرٌ﴾، هي:

(ب) نُسبية بنت كعب

(أ) أم أيوب الأنصارية

(د) أسماء بنت أبي بكر

(ج) خولة بنت ثعلبة

٢- الكتاب الذي ألفه جلال الدين السيوطي في أسباب النزول، هو:

(ب) أبواب النقول في أسباب النزول

(أ) أسباب النزول

(د) الصحيح المُسند من أسباب النزول

(ج) العُجاب في بيان الأسباب

٣- من شروط النسخ أن يكون مُتعلِّقاً بـ:

(د) الأحكام الشرعية العملية

(ج) القصص

(أ) الأحكام الاعتقادية (ب) الأخلاق

٤- التفسير الذي ألفه الشنقيطي وأتمه تلميذه عطية محمد سالم، هو:

(د) تفسير المنار

(ج) التحرير والتنوير

(ب) تيسير التفسير (أ) أضواء البيان

٥- من الأسس التي قام عليها منهج القطن في تفسيره:

(ب) ربط الآيات الكريمة بالواقع المعاصر

(أ) عرض القضايا اللغوية والبلاغية بتوسُّع

(د) شرح جميع المفردات في الآيات الكريمة

(ج) تبني المذهب المالكي في عرض الأحكام الفقهية

٦- خُتمت الآية الكريمة ﴿رَبَّنَا وَاجْعَلْنَا مُسْلِمِينَ لَكَ وَمِنْ ذُرِّيَّتِنَا أُمَّةً مُسْلِمَةً لَكَ وَأَرِنَا مَنَاسِكَنَا وَتُبْ عَلَيْنَا يَا قَوْلَ اللَّهِ تَعَالَى:

(ب) ﴿إِنَّكَ أَنْتَ الْعَزِيزُ الْحَكِيمُ﴾

(أ) ﴿إِنَّكَ أَنْتَ التَّوَّابُ الرَّحِيمُ﴾

(د) ﴿إِنَّكَ سَمِيعُ الدُّعَاءِ﴾

(ج) ﴿إِنَّكَ أَنْتَ السَّمِيعُ الْعَلِيمُ﴾

٧- المراد بـ (كلمات) في قول الله تعالى: ﴿وَإِذْ أَبْتَلَىٰ إِبْرَاهِيمَ رَبَّهُ بِكَلِمَاتٍ فَأَتَمَّهُنَّ﴾:

(ب) الأمر بالصلاة في مقام إبراهيم

(أ) دعاء إبراهيم أن يكون من ذريته من يهدي الناس

(د) مجموعة من الفضائل والآداب والتكاليف الشرعية

(ج) تضرع إبراهيم بأن يجعل المسجد الحرام آمناً

٨- من صور اصطفاء الله تعالى للنبي نوح:

(ب) جعله من أولي العزم من الرسل

(أ) جعله أباً البشر

(د) أجرى على يديه إحياء الموتى

(ج) كلَّمه دون حجاب

الصفحة الثانية

- ٩- معنى ﴿حَصُورًا﴾ في قول الله تعالى ﴿أَنَّ اللَّهَ يُبَشِّرُكَ بِيَحْيَىٰ مُصَدِّقًا بِكَلِمَةٍ مِّنَ اللَّهِ وَسَيِّدًا وَحَصُورًا وَنَبِيًّا مِّنَ الصَّالِحِينَ﴾:
- (أ) مؤمناً بعباسي ﷺ
(ب) صاحب علم
(ج) شاكراً لنعم الله تعالى
(د) منزهاً عن الشهوات
- ١٠- المقصود بكلمة (الاصطفاء) الأولى الواردة في قول الله تعالى عن مريم ﷺ ﴿وَإِذْ قَالَتِ الْمَلَكَةُ يَا مَرْيَمُ إِنَّ اللَّهَ اصْطَفَاكِ وَطَهَّرَكِ وَاصْطَفَاكِ عَلَىٰ نِسَاءِ الْعَالَمِينَ﴾:
- (أ) الحمل بعباسي ﷺ
(ب) العبادة والطاعة وقبول خدمتها للمعبود
(ج) تسخير الرزق لها بغير حساب
(د) تنازع بني إسرائيل في رعايتها
- ١١- جميع ما يأتي من المعجزات التي أيدَ الله سبحانه بها عيسى ﷺ، ما عدا:
- (أ) إخبار بني إسرائيل بما أكلوه
(ب) شفاء الأكمه
(ج) إحياء الموتى بإذن الله تعالى
(د) تسخير عوالم الجن والإنس
- ١٢- الكتاب السماوي الذي تحدثت عنه الآية الكريمة ﴿ذَلِكَ نَتْلُوهُ عَلَيْكَ مِنَ الْآيَاتِ وَالذِّكْرِ الْحَكِيمِ﴾، هو:
- (أ) الزبور
(ب) التوراة
(ج) الإنجيل
(د) القرآن الكريم
- ١٣- معنى كلمة ﴿الْمُمْتَرِينَ﴾ في قول الله تعالى ﴿الْحَقُّ مِن رَّبِّكَ فَلَا تَكُونَنَّ مِنَ الْمُمْتَرِينَ﴾:
- (أ) المتكبرين
(ب) الشاكين
(ج) المبتهلين
(د) الماكين
- ١٤- المراد بـ ﴿كَلِمَةٍ سَوَاءٍ﴾ في قول الله تعالى ﴿قُلْ يَا أَهْلَ الْكِتَابِ تَعَالَوْا إِلَىٰ كَلِمَةٍ سَوَاءٍ﴾:
- (أ) المباحة
(ب) الدعاء
(ج) التوحيد
(د) المصالحة
- ١٥- جميع ما يأتي عاقب الله تعالى به إبليس بسبب رفضه السجود لآدم ﷺ، ما عدا:
- (أ) الهبوط من الجنة
(ب) الطرد من رحمة الله
(ج) استحقاق اللعنة
(د) التأخير إلى يوم القيامة
- ١٦- معنى قول الله تعالى ﴿فَدَلَّنَهُمَا بِعُرُورٍ﴾ في قصة عداوة إبليس لآدم ﷺ وزوجه:
- (أ) خلف بالله لهما
(ب) وسوس لهما
(ج) زين لهما الأكل
(د) أوقعهما في المعصية
- ١٧- يدلّ سماح سليمان ﷺ للهدد بتقديم حُجّة لغيابه على صفة من صفات سليمان ﷺ، هي:
- (أ) الحزم
(ب) القوة
(ج) العدل
(د) الذكاء
- ١٨- حُكْم سجود التلاوة، هو:
- (أ) فرض عين
(ب) مباح
(ج) سنة
(د) فرض كفاية
- ١٩- سبب وصف ملكة سبأ كتاب سليمان ﷺ بأنه كريم، أنه:
- (أ) جاءها من نبي ملك تعرف سلطانه
(ب) جاء فيه الدعوة إلى عدم التكبر
(ج) اشتمل على البسمة
(د) من أكثر الكتب طولاً وتفصيلاً
- ٢٠- كان ردّ ملكة سبأ على رسالة سليمان ﷺ:
- (أ) تجهيز جيش كبير لمحاربتة
(ب) مسالمة سليمان ﷺ وتقديم هدية إليه
(ج) تجاهل رسالته
(د) تفويض اتخاذ القرار المناسب لأشراف قومها

الصفحة الثالثة

- ٢١- الصِّفَةُ التي اتصفت بها مَلِكَةُ سَبَأَ في قول الله تعالى ﴿فَلَمَّا جَاءَتْ قِيلَ أَهَكَذَا عَرَشُكَ قَالَتْ كَأَنَّهُ هُوَ﴾، هي:
- (أ) عزة النفس (ب) المكر (ج) رَجَاحَةُ العِقل (د) التواضع
- ٢٢- عاقب الله تعالى قارون بـ:
- (أ) الغرق (ب) القتل (ج) الخسف (د) المسخ
- ٢٣- معنى ﴿فَتَعَسَّ لَهُمْ﴾ في قول الله تعالى: ﴿وَالَّذِينَ كَفَرُوا فَتَعَسَّ لَهُمْ وَأَصْلَ أَعْمَلَهُمْ﴾، هي:
- (أ) بُعْدًا لَهُمْ (ب) مَكَانًا لَهُمْ (ج) مُسْتَقَرًّا لَهُمْ (د) شِقَاءً لَهُمْ
- ٢٤- نزلت سورة الحشر بعد غزوة:
- (أ) بني قريظة (ب) خيبر (ج) بني قينقاع (د) بني النضير
- ٢٥- الذين بيّن الله تعالى فضلهم في قوله تعالى: ﴿وَالَّذِينَ تَبَوَّءُوا الدَّارَ وَالْإِيمَانَ مِن قَبْلِهِمْ﴾، هم:
- (أ) المهاجرون (ب) الأنصار (ج) أهل مكة (د) أهل الطائف
- ٢٦- السبب في أنّ عِلْمَ الجَرْحِ والتعديل لم يكن علمًا قائمًا بذاته في زمن الصحابة، هو:
- (أ) تَوَرُّعُ الصحابة عن تجريح الرواة (ب) قِلَّةُ الرواية في زمن الصحابة (ج) أنّ دواعي هذا العِلْمِ لم تكن موجودة في عصرهم (د) أنّ هذا العِلْمِ كان يُعَدُّ عندهم من الغيبة المحرمة
- ٢٧- أشدّ الألفاظ ضعفًا في من يُرَدُّ حديثهم، هو:
- (أ) مُتَهَمٌ بالكذب (ب) كَذَّابٌ (ج) أَكْذَبُ النَّاسِ (د) ضَعِيفٌ جَدًّا
- ٢٨- يدلّ لفظ (أخبرني) عند الإمام البخاري على:
- (أ) انقطاع السند (ب) ثبوت اللقاء بين الراوي وشيخه (ج) عدم ملازمة الراوي بشيخه (د) إمكانية لقاء الراوي بشيخه
- ٢٩- صاحب كتاب (الدفاع عن السنة وردّ شبهة المُستشرقين)، هو:
- (أ) عبد الحيّ اللكنوي (ب) محمد أبو شهبّة (ج) مصطفى السباعي (د) بدر الدين العيني
- ٣٠- سبب طول كتاب (عمدة القاري) مقارنة بكتاب (فتح الباري)، هو أنّ مؤلفه:
- (أ) وضع مُقدِّمة لكتابه سماها (هَدْيُ السَّارِي) (ب) استنبط الأحكام الفقهية من متون الأحاديث (ج) بيّن المواضع التي تكررت فيها الأحاديث في صحيح البخاري (د) توسّع في بيان مسائل اللغة والإعراب والبلاغة
- ٣١- من الكتب التي ألفها ابن حجر العسقلاني:
- (أ) معاني الأختيار (ب) عقد الجُمان (ج) المجموع شرح المُهذَّب (د) الإصابة في تمييز الصحابة
- ٣٢- من منهج الإمام النووي في كتابه (المنهاج) شرح صحيح مسلم، الاستشهاد بأقوال من سبقه من الشُّرَاحِ، ومن هؤلاء:
- (أ) ابن حجر العسقلاني (ب) القاضي عياض (ج) بدر الدين العيني (د) عبد الحيّ اللكنوي
- ٣٣- سعى القاضي عياض في كتابه (إكمال المُعلِّمِ في فوائد مسلم) إلى إتمام عمَلِ الإمام:
- (أ) البخاري (ب) ابن حجر (ج) المازري (د) العيني

الصفحة الرابعة

- ٣٤- من الكتب التي جُمعت فيها أحاديث كل صحابي على حدة من دون النظر إلى موضوع الأحاديث أو درجة صحتها:
(أ) جامع الترمذي (ب) سنن ابن ماجه (ج) مُسند أحمد بن حنبل (د) المُجتبى للنسائي
- ٣٥- الحديث الشريف الذي استحب كثير من العلماء وضعه في أول كتبهم لأهميته، هو:
(أ) "إنما الأعمال بالنية"
(ب) "ألا أنلكم على ما يمحو الله به الخطايا"
(ج) "البر حُسن الخُلُق"
(د) "كُنْ في الدنيا كأنك غريب"
- ٣٦- جميع ما يأتي يُعدّ من حُسن الخُلُق مع الناس، ما عدا:
(أ) بذل الخير (ب) العفو عن المُسيء (ج) كَفُّ الأذى (د) صيام رمضان
- ٣٧- من وصايا النبي ﷺ في الحديث النبوي الشريف "وَعَظْنَا رسول الله ﷺ مَوْعِظَةً وَجِلَّتْ مِنْهَا القلوب...":
(أ) التيسير على المُعسر
(ب) الالتزام بالسنة النبوية
(ج) تقديم العون للناس
(د) الرّفق بالناس في الصلاة
- ٣٨- جعل الله الأمة الإسلامية خير أمة أُخرجت للناس، لما تتصف به من:
(أ) كثرة العبادة لله تعالى
(ب) حُبّ الرسول ﷺ
(ج) القيام بواجب الأمر بالمعروف والنهي عن المنكر
(د) التصديق برسالات جميع الأنبياء السابقين
- ٣٩- واحدة من العبارات الآتية صحيحة فيما يتعلّق بأحكام الخطأ والنسيان والإكراه:
(أ) مَنْ نَسِيَ أداء الصلاة وَجِبَ عليه قضاؤها حين يتذكرها
(ب) مَنْ قَتَلَ مسلماً خطأ فلا دية ولا كفارة عليه
(ج) مَنْ تلفظ بكلمة الكُفر مُكرهاً فإنه يأثم
(د) مَنْ نَسِيَ الوضوء ثم صَلَّى بغير وضوء ثم تذكر لا يلزمه إعادة الصلاة
- ٤٠- قائل عبارة: (إذا أمسيت فلا تنتظر الصباح، وإذا أصبحت فلا تنتظر المساء)، هو:
(أ) العرياض بن سارية
(ب) عبد الله بن عمر
(ج) أنس بن مالك
(د) حذيفة بن اليمان
- ٤١- يُطلق مفهوم (الأمل وحُسن الظن بعفو الله عن السيئات وغفرانه للذنوب) على:
(أ) الرجاء (ب) الدعاء (ج) التوكل (د) الاستغفار
- ٤٢- جميع ما يأتي من شروط التوبة الصادقة، ما عدا:
(أ) الإقلاع عن المعصية
(ب) النَّدَم على فعل المعصية
(ج) أن تكون عند غَرْغرة الروح
(د) وجوب إعادة الحقوق لأصحابها
- ٤٣- العلامة الأولى من علامات النفاق كما وردت في الحديث الشريف "أربع من كُنَّ فيه..."، هي:
(أ) إذا وعد أخلف (ب) إذا حدّث كذب (ج) إذا خاصم فجر (د) إذا عاهد غدر
- ٤٤- يُعدّ الطالب الذي يأمل النجاح من دون جدّ واجتهاد:
(أ) مُتواكلاً (ب) مُتوكِّلاً (ج) آخذاً بالأسباب (د) مُعتمداً على نفسه

الصفحة الخامسة

٤٥- جميع ما يأتي من الأعمال التي وردت في الحديث الشريف "ألا أدلّكم على ما يمحو الله به الخطايا..."، ما عدا:

(أ) كثرة الخطأ إلى المساجد

(ب) إسباغ الوضوء على المكاره

(ج) حُسن التوكُّل على الله

(د) انتظار الصلاة بعد الصلاة

٤٦- يدلّ حديث (الشفاعة في الحدود) على أن الجرائم التي فيها عقوبة الحدّ إذا بلغت الحاكم، فإنّه:

(أ) يجوز العفو عنها

(ب) يجوز الشفاعة فيها

(ج) يُستحب أخذ الفداء بدّل إقامة الحدّ

(د) يجب إقامة الحدّ فيها

٤٧- يدلّ قول النبي ﷺ لابن اللّثبية: "فَهَلَّا جِلست في بيت أبيك وأمك..." على:

(أ) مُحاسبة الموظف على كل مالٍ اكتسبه في أثناء الوظيفة

(ب) مراقبة الموظف خارج أوقات عمله

(ج) كراهية قبول الموظف الهدايا استغلالاً لوظيفته

(د) جواز قبول الموظف الهدايا تقديرًا لجهده

٤٨- راوي الحديث النبوي الشريف (الرّفق بالناس في الصلاة)، هو الصحابي الجليل:

(أ) حذيفة بن اليمان ﷺ

(ب) عقبة بن عمرو ﷺ

(ج) العرياض بن سارية ﷺ

(د) النّوّاس بن سمعان ﷺ

٤٩- من واجبات الأئمة نحو إخوانهم المُصلّين:

(أ) التزام سعة الصدر

(ب) الإطالة في الصلاة

(ج) الإسراع في القراءة

(د) جَمع التبرعات

٥٠- زوجة النبي ﷺ التي خاطبها بقوله: "إنك لابنة نبيّ، وإنّ عمك لنبيّ، وإنك لتحت نبيّ" تخفيفاً عنها، هي:

(أ) حفصة ﷺ

(ب) سوّدة ﷺ

(ج) عائشة ﷺ

(د) صفية ﷺ

﴿ انتهت الأسئلة ﴾